

SUMA Y RESTA CON FIGURAS

Puedes divertirte haciendo sumas y restas usando figuras en vez de números. Primero, mira el ejemplo. Después usa las figuras y valores dentro de la tabla para solucionar los siguientes problemas.




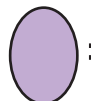

Encuentra el número que va con la figura para poder sumar o restar. Después de escribir el total, busca y escribe la figura que va con cada dígito de tu respuesta.



Ejemplo

$$\begin{array}{r}
 \text{círculo} \quad \text{triángulo} = 13 \\
 + \quad \text{óvalo} = 4 \\
 \hline
 \text{círculo} \quad \text{pentágono} = 17
 \end{array}$$



 = 1	 = 2	 = 3	 = 4	 = 5
estrella = 6	pentágono = 7	corazón = 8	diamante = 9	rectángulo = 0

$$\begin{array}{r}
 \text{estrella} \\
 + \quad \text{diamante} \\
 \hline
 \end{array}$$

$$\begin{array}{r}
 \text{círculo} \quad \text{rectángulo} \\
 - \quad \text{corazón} \\
 \hline
 \end{array}$$

$$\begin{array}{r}
 \text{pentágono} \quad \text{paralelogramo} \\
 + \quad \text{óvalo} \\
 \hline
 \end{array}$$

$$\begin{array}{r}
 \text{óvalo} \\
 + \quad \text{corazón} \\
 \hline
 \end{array}$$

$$\begin{array}{r}
 \text{triángulo} \quad \text{pentágono} \\
 - \quad \text{cuadrado} \quad \text{triángulo} \\
 \hline
 \end{array}$$

$$\begin{array}{r}
 \text{estrella} \quad \text{paralelogramo} \\
 - \quad \text{cuadrado} \quad \text{diamante} \\
 \hline
 \end{array}$$